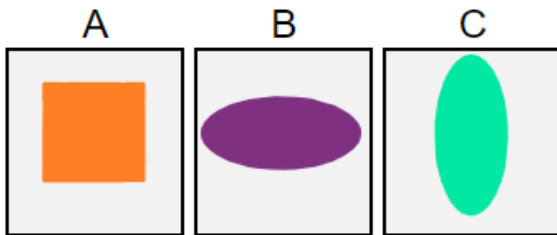


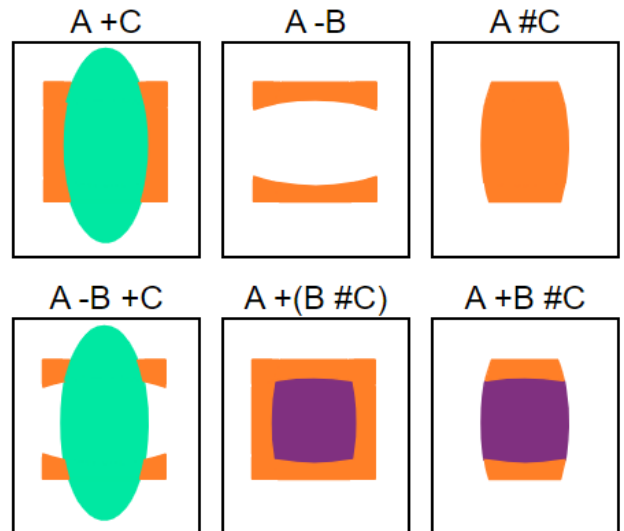
Lycée

- Défi algorithmique n°7 -

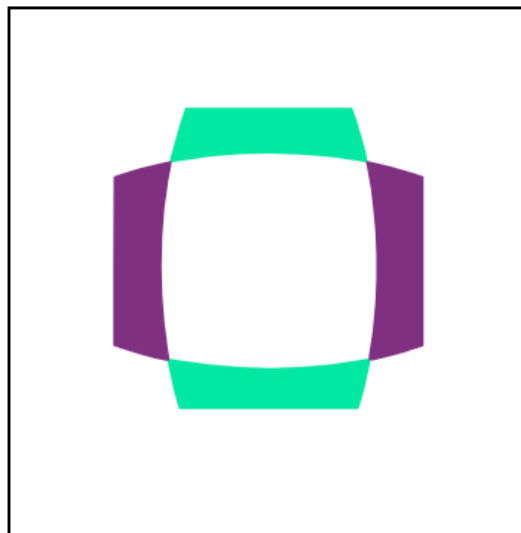
Combine les trois formes ABC. Utilise les exemples pour comprendre les différentes combinaison possibles et reproduits l'objectif !



Exemples



Objectif



Si tu penses avoir trouvé une solution à ce défi, rédige soigneusement ta solution et envoie-la à l'adresse bonnefoy.maths@gmail.com ou dépose ta solution dans la boîte.

N'oublie pas de préciser ton nom et ta classe !

Prêt à relever le défi ?